

MEMENTO

# L'aqueduc romain de Nîmes et le Pont du Gard

## Le chantier et les carrières


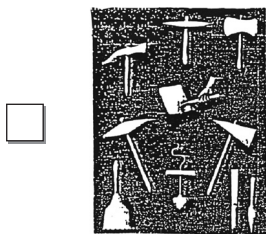
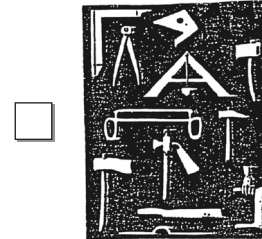

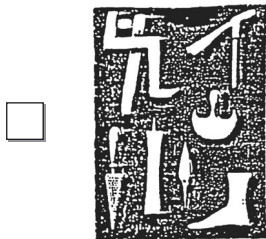
Fiches élève

## Fiche activité

A chacun ses outils

1. Ces outils et objets ont été représentés sur des bas-reliefs funéraires (pierres tombales) gallo-romains. Essaie de retrouver le métier de chacun dans la liste. Ecris le numéro au bon endroit.

agriculteur	marchand	forgeron	charpentier	cordonnier	tailleur de pierres
1	2	3	4	5	6



2. Retrouve le nom de quelques outils du tailleur de pierres.



## Fiche parcours

### La chèvre

Je réfléchis  
J'écris

A quoi servait cet engin ?

---

---

---

Quelle source d'énergie utilisait-il ?

---

---

---

Les chèvres les plus puissantes des romains pouvaient soulever?

100 kg

1 tonne

6 tonnes